

2. B RAZRED

PETEK, 24. 4. 2020

SPOZNAVANJE OKOLJA


Gozd

Na povezavi <https://ucilnice.arnes.si/mod/folder/view.php?id=1086046> si oglej predstavitev **Smreka ali jelka**.

MATEMATIKA

Kilogram (kg)

Najprej boš preveril, kako uspešen si pri računanju. Časa imaš 15 minut. Račune prepiši v zvezek in jih izračunaj. Starši bodo tvoje račune preverili in mi napisali, kako uspešen si bil.


	$50 + 16 =$	$79 - 31 =$
	$11 + 75 =$	$89 - 69 =$
	$62 + 26 =$	$68 - 32 =$
	$75 + 21 =$	$26 - 14 =$
	$39 + 31 =$	$77 - 43 =$
	$74 + 13 =$	$44 - 23 =$
	$27 + 52 =$	$83 - 52 =$
	$86 + 13 =$	$95 - 82 =$
	$30 + 61 =$	$67 - 16 =$
	$22 + 53 =$	$97 - 26 =$

Razišči omaro z živili. Poišči podatke o količini snovi (koliko tehta vsebina vrečke oziroma škatle).

Ali si našel vrečko oz. škatlo, v kateri je 1 kilogram snovi (1 kg)?




Kupila sem en kilogram fižola.



Besedo **kilogram** zamenjamo s kratico **kg**.
En **kilogram** zapišemo krajše **1 kg**.

Pri tehtanju uporabljamo uteži.



1 kilogram 2 kilograma 5 kilogramov

Odpri DZ (4. del) na strani 9 in reši naloge. Natančno si oglej obe strani tehtnice pri 4. nalogi.

SLOVENSKI JEZIK

Prepis

V zvezek za SLJ spodnje besedilo prepisi s pisanimi črkami. Kjer je potrebno, uporabi veliko začetnico (začetek povedi, ime). Pazi na obliko zapisa. Fotografijo prepisa mi bodo starši poslali po elektronski pošti.

**V SOBOTO BO DRUŽINA NOVAK ŠLA K BABICI VESNI.
METKA BO Z BABICO PEKLA PIŠKOTE. ANICA SE BO
IGRALA S ČRTOM. OČKA, MAMA IN OTON BODO
POSADILI KROMPIR.**

In za konec še:

- Rešitev 4. naloge pri MAT je: Krompirja je 9 kg.
- Pred počitnicami vas vabim še na fotografsko razstavo umetnin, ki ste jih izdelali v tem tednu. Vaši kipci in mandale so res izvirni. Uporabili ste tisto, kar ste našli v naravi.
- Razstava bo na ogled na povezavi <https://ucilnice.arnes.si/mod/folder/view.php?id=1086046> pod naslovom Kipi in mandale učencev 2. b razreda. Uživaj v ogledu.

Juhu, počitnice so tu!

